

السنة الدراسية: 2023 / 2024
المستوى: الرابع ابتدائي
الأستاذ: بوعافية حسين



مديرية التربية لولاية: معسكر
إبتدائية: الشهيد حنطاش قادة - أولاد الخامسة الجديدة .
المدة: ساعة و 30 د.

4

إختبار الفصل الأول في مادة الرياضيات

4

التمرين الأول:

إليك العدد: 145 023

- 1- أكتب العدد بالأحرف.
- 2- ما هو رقم مئاته؟
- 3- ما هو عدد عشرات ألفه؟
- 4- أحصر العدد السابق بين ألفين متتاليين.

التمرين الثاني:

قارن في كل حالة بين العددين باستعمال الرمز المناسب: ($<$ ، $>$ ، $=$)

105 956..... 105 958	147 585..... 1 475
36 040..... 036 040	298 008..... 298 800
628 478..... 628 458	045 698..... 45 698

التمرين الثالث:

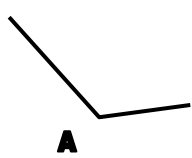
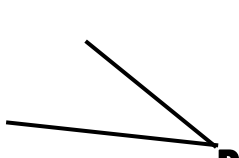
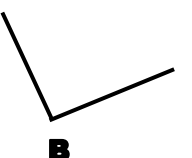
حوّل إلى الوحدة المطلوبة:

5 863 g = kg g	12 hg = Kg =dag
482 cg =g.....mg	

التمرين الرابع:

- لاحظ الشكلين ثم أكمل بالعبارة المناسبة مما يلي: (متوازيان / يوازي / يُعَامِد / قائمة / حادة / منفرجة)

(A)	(F)
(B)	(K)
(A) مستقيمان	(F) و (A) مستقيمان
(B)	(B)

 زاوية	 زاوية	 زاوية
---	--	--

الوضعية الإدماجية:

اشترت ربة بيوت 5 kg من البصل بـ: 325 ديناراً و 3 Kg من البطاطا ضعف ثمن شراء البصل.
- ما هو ثمن شراء البطاطا؟

- ما هو ثمن شراء البطاطا والبصل معاً؟

إذا علمت أن وزن القفة مملوءة بالبصل و البطاطا هو 9 kg .

- كم كان وزن القفة فارغة بـ g ؟



بالتوفيق	الصفحة 1/1	انتهى بحمد الله
----------	------------	-----------------